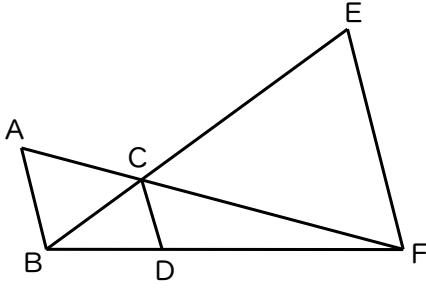


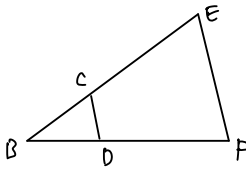
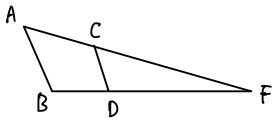
<図形発見練習用プリント>

①ABとCDとEFは平行

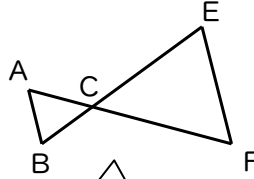


<目標>
 ピラミッド型 2 個
 (砂時計型 1 個)
 区切り面積型 3 個

<ピラミッド型>

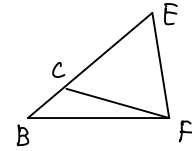
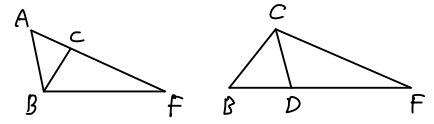


<砂時計型>

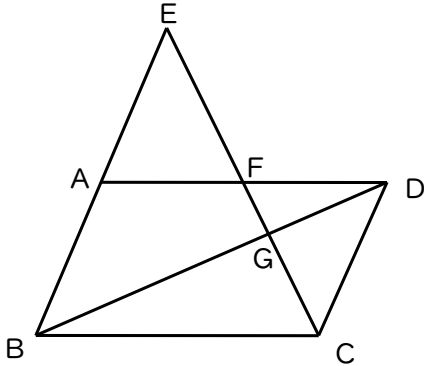


このように見つけた形を書き出してみよう!

<区切り面積型>

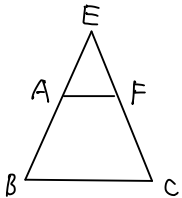


②四角形 ABCD は平行四辺形、E は BA の延長線上にある

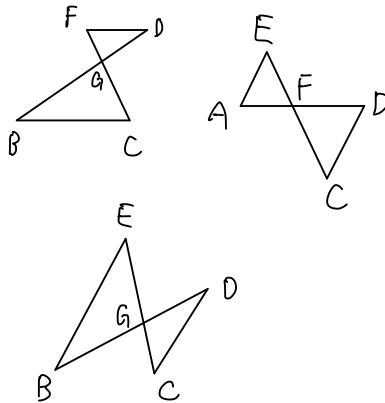


<目標>
 ピラミッド型 1 個
 砂時計型 3 個
 区切り面積型 3 個

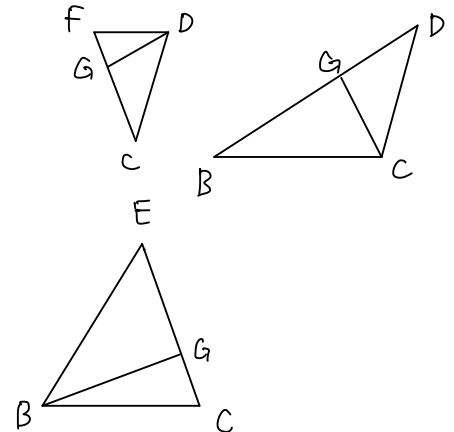
<ピラミッド型>



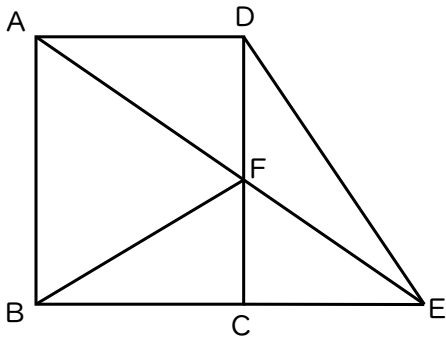
<砂時計型>



<区切り面積型>

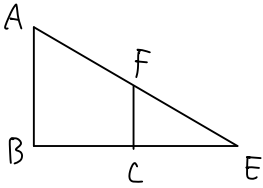


③ 四角形 ABCD は長方形、E は BC の延長線上にある

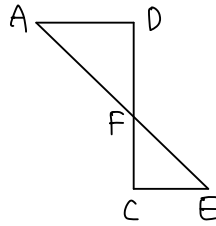


<目標>
 ピラミッド型 1個
 砂時計型 1個
 区切り面積型 4個

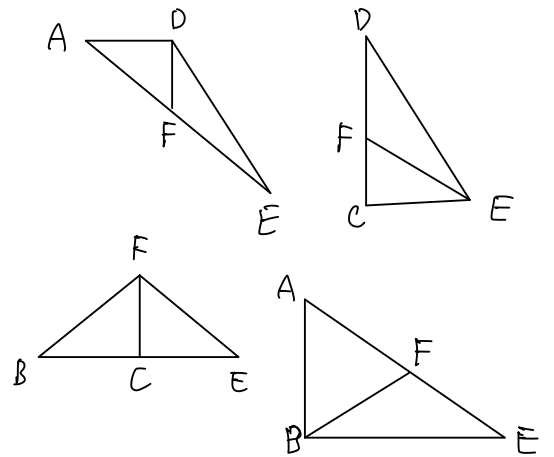
<ピラミッド型>



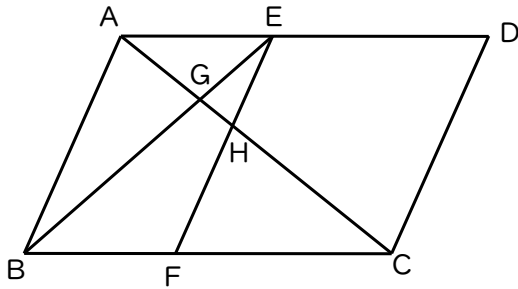
<砂時計型>



<区切り面積型>

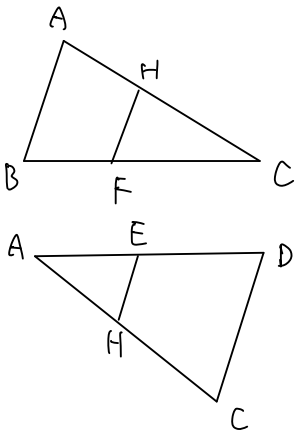


④ 四角形 ABCD は平行四辺形、AB と EF と CD は平行

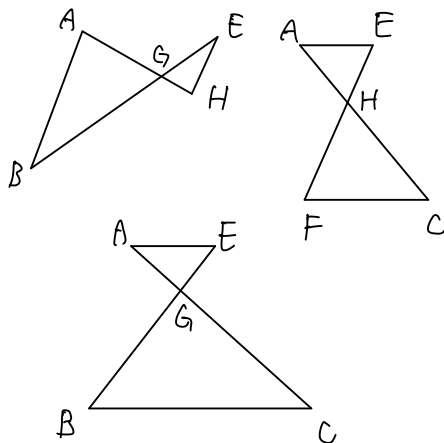


<目標>
 ピラミッド型 2個
 砂時計型 3個
 区切り面積型 3個

<ピラミッド型>



<砂時計型>



<区切り面積型>

